



九 总 复 习

本学期学习了哪些数学知识？有哪些收获？



一位数乘两位数、三位数的乘法。

年、月、日。



还学了……

两位数除以一位数的除法。

乘法与除法

1. 先口算，再说一说是怎样算的。

$30 \times 3 =$

$6 \times 300 =$

$80 \times 5 =$

$90 \div 3 =$

$60 \div 2 =$

$80 \div 4 =$

$12 \times 4 =$

$25 \times 3 =$

$48 \div 2 =$

2. 先用竖式计算，再说一说是怎样算的。

75×5

304×5

$75 \div 5$

235×4

340×6

$87 \div 4$

135×3

$66 \div 7$

$54 \div 3$

四则混合运算

3. 先想一想下面各题的运算顺序，再计算。

$103 + 26 - 7$

$6 \times 30 \times 4$

$64 \div 8 \times 124$

$25 \times 5 + 64$

$88 + 78 \div 3$

$152 - 12 \times 2$

$(17 + 8) \times 4$

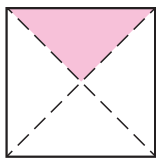
$42 \div (45 - 38)$

$80 - (15 + 35)$

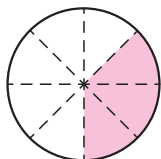


分数的初步认识

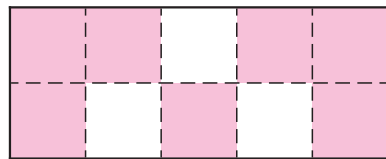
4. 用分数表示下列各图的涂色部分。



()



()



()

5. 先计算,再说一说你是怎样算的。

$$\frac{1}{7} + \frac{5}{7}$$


$$\frac{3}{5} + \frac{1}{5}$$

$$\frac{6}{8} - \frac{3}{8}$$

$$\frac{7}{9} - \frac{5}{9}$$

克、千克、吨,年、月、日

6. 填合适的单位。



重5()



重500()



重30()



载重3()

7. 先想一想我们学习了哪些有关时间的知识,再向同学说一说。



8. 先向同学说一说怎样用24时记时法记时,再联系自己的生活习惯用24时记时法在括号里填出下列活动开始的时间。

早晨起床 ()

做课间操 ()

下午放学 ()

看电视 ()

做家务 ()

晚上睡觉 ()

问题解决

9. 解决数学问题,说一说你的想法。



(1) 买8包萝卜种子要多少元?

(2) 50元最多可以买多少包白菜种子? 还剩多少元?

(3) 买3包萝卜种子和3包西红柿种子一共需要多少元?

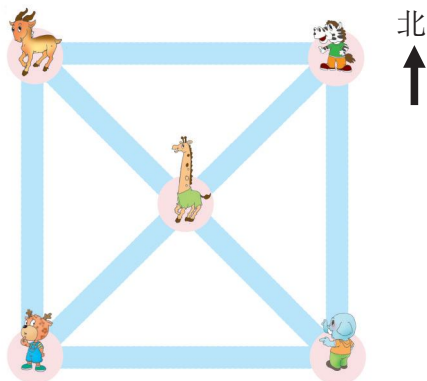
(4) 你还能提出哪些数学问题? 怎样解决?

辨认方向,认识周长

10. 说一说你知道的有关方向的知识。



11. 说说图中的动物怎样串门。



12. 测量并计算下列图形的周长。



练习二十二

1. 口算。

$20 \times 6 =$

$50 \times 4 =$

$7 \times 300 =$

$80 \div 2 =$

$70 \div 7 =$

$90 \div 3 =$

$32 \times 3 =$

$26 \times 2 =$

$40 \div 8 =$

2. 用竖式计算。

25×6

306×8

260×5

$85 \div 4$

$78 \div 6$

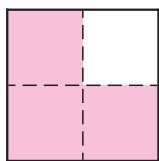
213×3

168×3

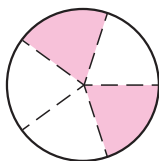
$48 \div 3$

$72 \div 4$

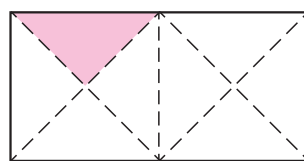
3. 用分数表示下列图形的涂色部分。



()



()



()



4. 在 ○ 里填“>”或“<”。

$$\frac{1}{3} \bigcirc \frac{2}{3}$$

$$\frac{1}{7} \bigcirc \frac{3}{7}$$

$$\frac{4}{5} \bigcirc \frac{3}{5}$$

$$\frac{3}{6} \bigcirc \frac{4}{6}$$

5. 计算。

$$\frac{2}{5} + \frac{1}{5}$$

$$\frac{2}{7} + \frac{4}{7}$$

$$\frac{7}{9} - \frac{3}{9}$$

$$\frac{4}{8} - \frac{1}{8}$$

6. 计算下面各题。

$$83 + 78 - 25$$

$$78 \div 2 \times 3$$

$$130 - (66 + 24)$$

$$65 \div 5 + 57$$

$$650 - 3 \times 102$$

$$49 \div 7 \times 9$$

$$(245 - 50) \times 8$$

$$4 \times (89 + 11)$$

$$35 + 12 \times 8$$

7. 填空。

(1) 2012年2月有()天

2013年2月有()天

2014年2月有()天

2015年2月有()天

(2) 3年 = ()月

1时25分 = ()分

8日 = ()时

6分 = ()秒


(3) 1kg = ()g

3000g = ()kg

()kg = 2吨

8000kg = ()吨


8. 把同样重的用线连起来。



4kg



2000kg




2kg



2000g



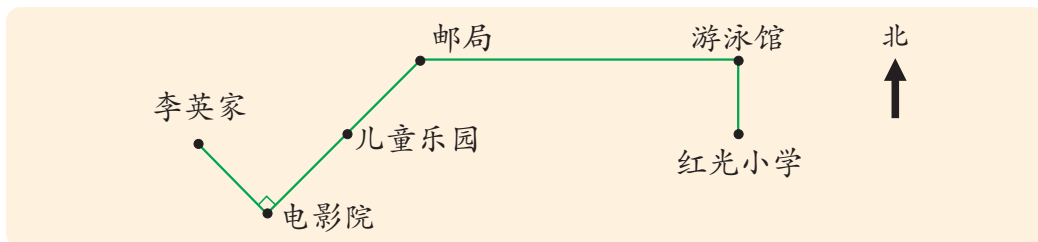
2吨



4000g



9. 李英上学。



李英从家出发,先向()方走到电影院,再向()方走两站到邮局,然后向()方走一站到游泳馆,最后向()方走一站到红光小学。

10. 填表。

图形	长(cm)	宽(cm)	边长(cm)	周长(cm)
长方形	18	7		
	28	15		
正方形			26	

11. 安装栏杆。



12. 围一围,议一议。

用一根24cm的绳子在钉子上围一个长方形,它的长和宽可能是多少厘米?



13. 一根铁丝刚好可以围一个长22cm,宽14cm的长方形。如果用这根铁丝围成一个正方形,正方形的边长是多少厘米?

14. 谁写得快?



15. 把一批蔬菜运往批发市场,第1天运了这批蔬菜的 $\frac{2}{7}$,第2天运了这批蔬菜的 $\frac{3}{7}$ 。

(1) 两天一共运了这批蔬菜的几分之几?

(2) 第2天比第1天多运这批蔬菜的几分之几?

16. 谢叔叔一家计划元旦期间外出旅游,预计每天支出情况如下:




餐费

住宿费及交通费等



17. 7名教师带领58名同学开展野营训练。他们要准备多少顶这样的帐篷?



18. 张叔叔家养了300只小兔。


(1) 已经卖了204只, 每只9元, 卖得多少元?

(2) 剩下的每筐装6只, 需要多少个筐?

19. 哪个小朋友买的笔记本的总页数多一些?



20.



96元



125元



228元

(1) 买3台电风扇和3辆自行车共用多少元?

(2) 500元能买6盏台灯吗? 如果不够, 还差多少元?

(3) 你还能提出并解决什么数学问题?

21. 调查CCTV-1星期六少儿类节目播放时间, 并填表。

节目名称				
开始时刻				
结束时刻				
播放时间				

全天播放少儿类节目的时间共()时()分。

