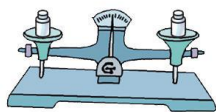
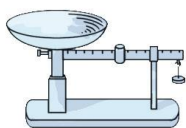
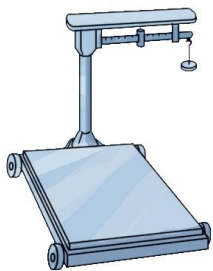




# 克、千克、吨

克、千克、吨都是计量物品轻重的单位。要知道物品的轻重,可用下面这些工具称。

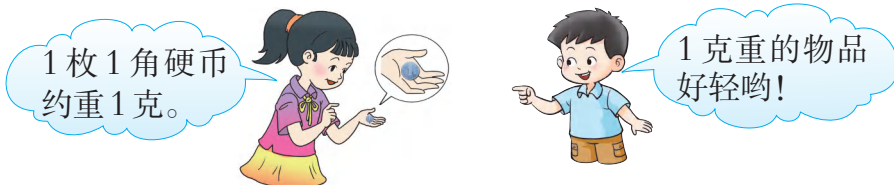


 1 认识克。

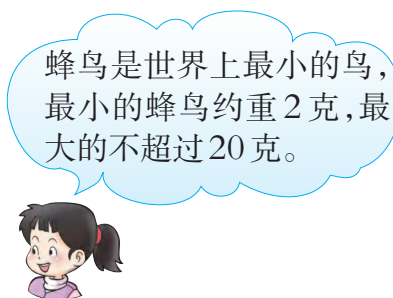
 称一称



 掂一掂


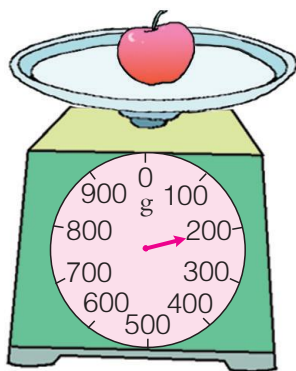



 议一议 生活中计量哪些物品的轻重可以用克作单位?



计量较轻的物品有多重,通常用克作单位,克用字母g表示。


填一填



2个鸡蛋重( )g 1个苹果重( )g

5本数学书重( )g

2 认识千克。



指针指着1,表示两袋盐重1千克。



1 千克 = 1000 克

计量较重的物品有多重,通常用千克(也叫公斤)作单位,千克用字母kg表示。

你能在秤上找到2kg,3kg,4kg和5kg的刻度吗?

掂一掂



1 千克物品比 1 克物品重得多。

4 个梨大约重 1 千克。



称一称

(1)先分别称1kg大豆、2kg大米,再用手掂一掂。

(2)先将8个苹果、3个萝卜分别装在两个袋子里,掂一掂有多重,再称一称。


填一填

5000g = ( )kg

3kg = ( )g

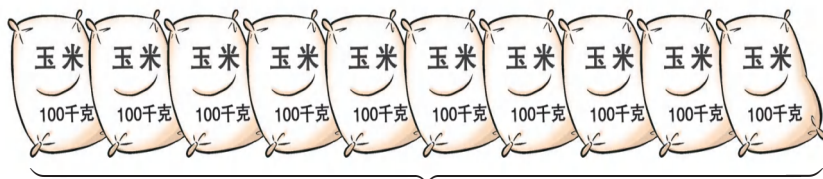


### 3 认识吨。



计量很重的物品有多重,通常用吨作单位。

1 吨有多重呢?



1000kg

这些玉米共重 1 吨。




1 吨 = 1000 千克

1 个三年级小学生的体重大约是 25kg, 4 个三年级小学生的体重大约是 100kg, 40 个三年级小学生的体重大约是 1 吨。

**说一说** 计量哪些物品有多重用到了吨?

**填一填** 2000kg = ( ) 吨      4 吨 = ( ) kg

### 4 还剩多少吨小麦?



$$2000\text{kg} = 2 \text{ 吨}$$

$$5 - 2 = 3 \text{ (吨)}$$

答: 还剩 3 吨小麦。

先统一单位,  
再计算。




# 课 堂 活 动

1. 掂一掂,称一称。



2. 对口令。



## 练 习 一

1. 连线。




乒乓球

55g



小皮球

3g



实心球

430g



足球

1000g


2. 填一填。

6kg = ( )g

1000g = ( )kg

8000g = ( )kg

3. 可以装几袋?



每袋装 1000 克。

4. 在 ( ) 里填适当的数。

6 吨 = ( ) kg

8000kg = ( ) 吨

( ) kg = 3 吨

5. 在 ○ 里填“>”“<”或“=”。

4kg ○ 4g

1kg ○ 999g

1500g ○ 2kg

1000g ○ 1kg

8 吨 ○ 9000kg

5000kg ○ 5 吨

6. 判断。(对的画“√”,错的画“×”。)

1 吨 = 10kg ( )

1000kg = 10 吨 ( )

6000kg = 6 吨 ( )

7. 沙坑里总共要装多少吨沙?



8. 小调查。

(1) 到商店调查下面的商品有多重。

1 把挂面	1 包味精	1 包奶粉	.....

(2) 查阅资料,记录下面的动物有多重。


1 头牛	1 头大象	1 头鲸	.....

(3) 你还能调查你家每月的用水量吗?

# 称体重



☂ 称一称，填一填。



第( )小组同学体重记录表

姓名						
体重(kg)						





🌂 看一看,比一比。



6 ~ 10岁儿童标准体重对照表

	男	女
	体重(kg)	体重(kg)
6岁	18 ~ 24	17 ~ 22
7岁	20 ~ 26	19 ~ 26
8岁	22 ~ 30	21 ~ 30
9岁	24 ~ 34	24 ~ 35
10岁	27 ~ 39	27 ~ 41

根据对照表,判断你的体重是否符合标准。



🌂 比一比,说一说。

