




# 总复习

## 20以内的数

1. 看图填数。



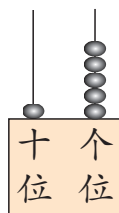
( )



( )



( )



( )



第1

第\_\_面小旗是红色的。把第12面小旗涂上黄色。

## 20以内的加减法

1. 从[0]~[9]的卡片中,选3张说出4道算式。

2.

$8+3=$

$6+9=$

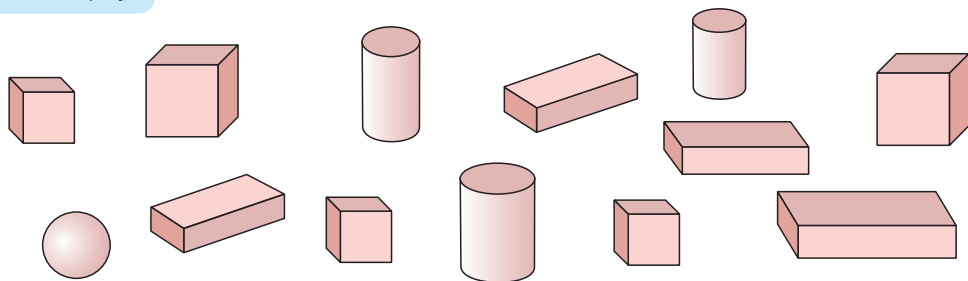
$14-7=$

$16-8=$

$7+4+6=$

$5+9-8=$

## 认识图形



长方体有( )个, 正方体有( )个, 圆柱有( )个, 球有( )个。



## 练习二十二

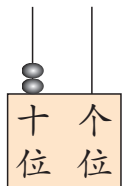
1. 看图填数。



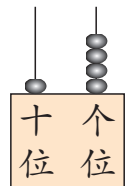
( )



( )

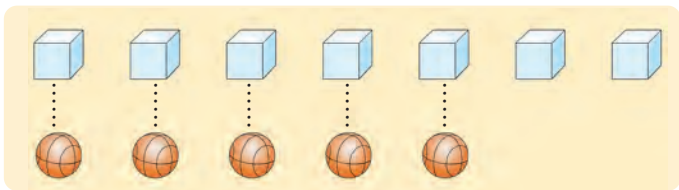


( )



( )

2. 看图比多少。



比 少 ( ) 个,  
 比 多 ( ) 个。


3. 先找规律,再填空。

12	13			16	18		
	7	9			15		

4. 从3,5,8,11中选3个数,写两个加法算式和两个减法算式。

\_\_\_\_\_

5. 看图填空。



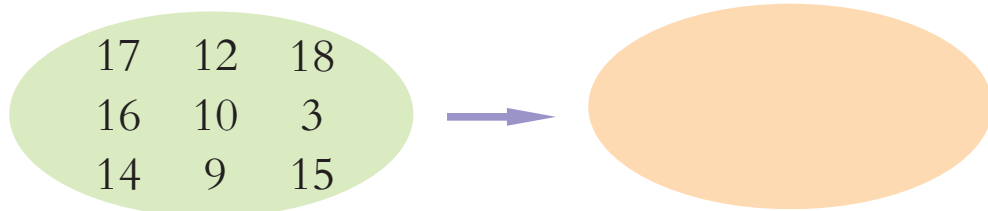
有  个小动物参加赛跑。现在, 排第 , 排第 。

6. 填空。

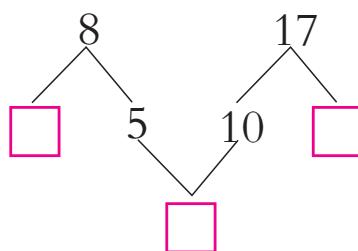
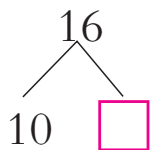
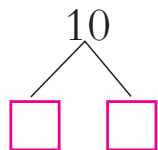
16 里面有 ( ) 个十和 ( ) 个一; 20 里面有 ( ) 个十; 1 个十和 2 个一组成 ( ); ( ) 个一和 ( ) 个十组成 14。



7. 从左圈中选出比13大的数填入右圈。



8. 填一填。



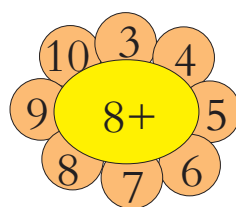

9. 计算。

$6+4=$	$10-5=$	$2+7=$	$9-6=$
$10+4=$	$14-6=$	$6-0=$	$5+8=$
$14+3=$	$15-2=$	$8+4=$	$13-9=$


10. 计算。

$8+6-10=$	$3+7+5=$	$18-4-9=$
$15-5+8=$	$7+7+4=$	$13-3+8=$

11. 口算。



12. 看图填空。



长方体	( )个
正方体	( )个
圆柱	( )个
球	( )个



13. 在○里填“>”“<”或“=”。

$9 \bigcirc 11$

$4+5 \bigcirc 8$

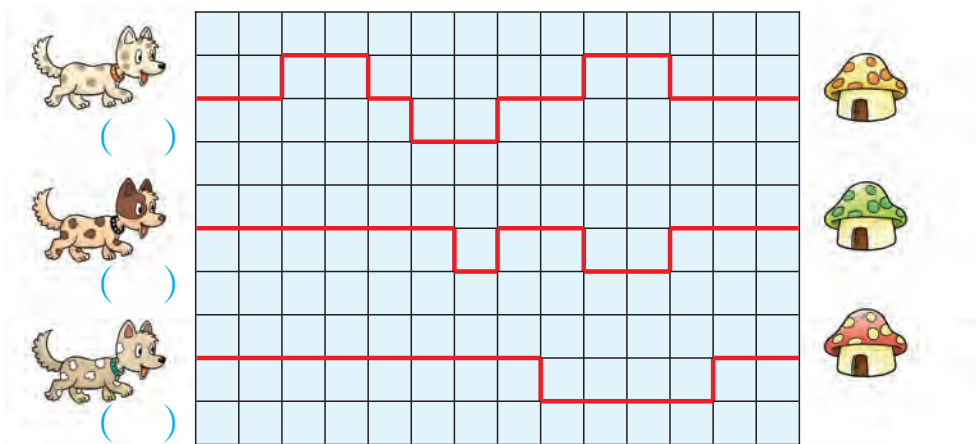
$3-0 \bigcirc 3+0$

$1 \bigcirc 0$

$11 \bigcirc 9+3$

$4+1 \bigcirc 4-1$

14. 三只小狗跑得一样快,谁最先到家? 在( )里画“√”。谁最后到家? 在( )里画“○”。



15. 填空。

$\square + 6 = 9$

$8 + \square = 10$

$\square + \square = 8$

$9 - 5 = \square$

$10 - \square = 8$

$\square - \square = 10$

16.



?个

$\square \bigcirc \square = \square$




15支

$\square \bigcirc \square = \square$

17. 小军原来有多少元?



买书后还剩5元。



8元

$\square \bigcirc \square = \square \text{ (元)}$



18. 兰兰摘了多少个?



$$\square \bigcirc \square = \square (\text{个})$$

19. 教室里原来有学生12人,现在有多少人?



可以这样算:

$$\square \bigcirc \square = \square (\text{人})$$

也可以这样算:

$$\square \bigcirc \square \bigcirc \square = \square (\text{人})$$

20.



苹果



梨



桃子

(1) 苹果和梨一共有多少个?

$$\square \bigcirc \square = \square (\text{个})$$

(2) 提出其他数学问题,并写出算式。



共有17人,大车准载客10人,小车准载客4人,可以怎样租车?

