



七

100 以内的加法和减法(二)




进位加法

1 一共有多少辆车？



$$27 + 8 = \square \text{ (辆)}$$

议一议 计算时,你遇到了什么新问题?



$$\begin{aligned} 7 + 8 &= 15 \\ 20 + 15 &= 35 \end{aligned}$$

$$\begin{array}{r} 27 \\ + 8 \\ \hline 35 \end{array}$$

可以用竖式算。



个位上的数相加满10,向十位进1。

2 算一算。




$$\begin{aligned} 75 + 10 &= 85 \\ 85 - 1 &= 84 \end{aligned}$$

$$\begin{array}{r} 9 \\ + 75 \\ \hline 84 \end{array}$$


可以这样写竖式。

$$\begin{array}{r} 75 \\ + 9 \\ \hline 84 \end{array}$$



课 堂 活 动


1. 圈一圈,算一算。



$$33 + 8 = \square$$

先算 $\square + \square = \square$

再算 $\square + \square = \square$

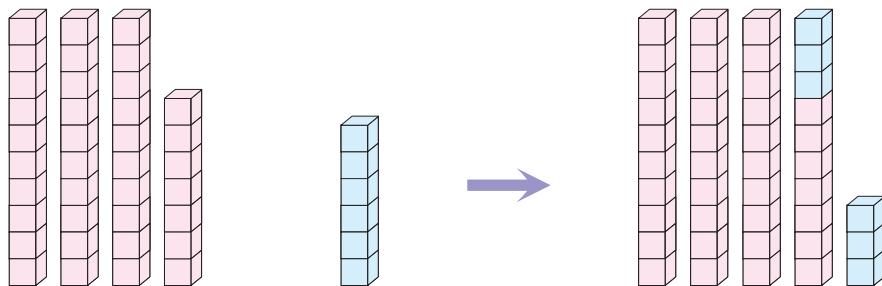


$$5 + 25 = \square$$

先算 $\square + \square = \square$

再算 $\square + \square = \square$

2. 摆一摆,说一说。



$$37 + 6 = \square$$

3. 填出和的十位上的数,并说一说你是怎样想的。

$$32 + 9 = \square 1$$

$$45 + 6 = \square 1$$

$$64 + 5 = \square 9$$

$$9 + 54 = \square 3$$

$$8 + 59 = \square 7$$

$$77 + 8 = \square 5$$

$$23 + 5 = \square 8$$

$$85 + 9 = \square 4$$

$$57 + 9 = \square 6$$



练 习 十 三

1. 口算。

$23+5=$	$6+73=$	$42+5=$	$3+35=$
$23+7=$	$7+73=$	$45+5=$	$3+37=$
$23+9=$	$8+73=$	$48+5=$	$3+39=$


2. 计算。

$\begin{array}{r} 36 \\ + 8 \\ \hline \end{array}$	$\begin{array}{r} 25 \\ + 7 \\ \hline \end{array}$	$\begin{array}{r} 44 \\ + 6 \\ \hline \end{array}$	$\begin{array}{r} 9 \\ + 52 \\ \hline \end{array}$
--	--	--	--

3. 计算。

$8+64=$	$77+3=$	$28+6=$	$5+55=$
$23+8=$	$62+9=$	$7+25=$	$4+58=$


4. 想一想错在哪里,并改正。



5. 在○里填“>”“<”或“=”。

$45+5 \bigcirc 40$	$62+8 \bigcirc 70$	$33 \bigcirc 28+3$
$4+38 \bigcirc 78$	$6+37 \bigcirc 33$	$69 \bigcirc 9+59$

6. 一共有多少张光盘?



$$\square \bigcirc \square = \square \text{ (张)}$$



7. 每个村到城市务工一共有多少人?

	幸福村	五星村	大同村	石坝村	向阳村
男(人)	28	6	29	33	8
女(人)	8	35	7	9	25
一共(人)					

8. 图书角原来有多少本图书?



$$\square \bigcirc \square = \square \text{ (本)}$$

9. 运水果。



(1) 一共有多少箱苹果?

$$\square \bigcirc \square = \square \text{ (箱)}$$

(2) 一共有多少箱梨?

$$\square \bigcirc \square = \square \text{ (箱)}$$



()里可以填什么数?

$$() + 7 < 62$$

$$9 + () = 67 + ()$$



3 一共有多少人参加春游?



$30+30=60$
 $6+7=13$
 $60+13=73$

$36+37=\square$ (人)



可以用竖式算。

$$\begin{array}{r} 36 \\ + 37 \\ \hline 73 \end{array}$$



试一试

$58+35=$

$64+29=$

$77+13=$

4 向阳村举行首届“评星”活动,每户参加一项评选。



(1) 评上“文明星”和“五好星”的一共有多少户？

$$26 + 35 = \square \text{ (户)}$$

$$\begin{array}{r} 26 \\ + 35 \\ \hline 61 \end{array}$$

用竖式计算进位加法要注意什么？



(2) 评上“五好星”和“小康星”的一共有多少户？

$$35 + 17 = \square \text{ (户)}$$

$$\begin{array}{r} 35 \\ + 17 \\ \hline \end{array}$$


说一说怎样计算。



议一议 你还能提出并解决哪些数学问题？

课 堂 活 动


1. 看图计算, 说说怎样计算。




$$27 + 15 = \square$$

$$\begin{array}{r} 27 \\ + 15 \\ \hline \end{array}$$

2. 圈一圈, 说说怎样计算。




$$38 + 26 = \square$$




$$24 + 39 = \square$$





$$43 + 17 = \square$$



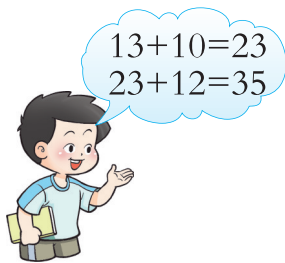
$$26 + 26 = \square$$

3. 用卡片 $\boxed{1}$, $\boxed{2}$, $\boxed{6}$, $\boxed{7}$ 摆出你能计算的两位数加两位数的算式, 并计算。

5 3 个小队一共有多少队员?



$$13 + 10 + 12 = \square \text{ (人)}$$




13	23
+ 10	+ 12
-----	-----
23	35



$$20 + 20 + 15 =$$

$$27 + 8 + 20 =$$



课 堂 活 动

1. 摆一摆,算一算,最后有多少根小棒?

先摆 , 再摆 , 再摆 。

$$\square + \square + \square = \square$$

2. 先计算,再说一说怎样计算。

$28+9+20=$

$12+15+8=$

练 习 十 四

1. 计算。

$$\begin{array}{r} 38 \\ + 27 \\ \hline \end{array}$$

$$\begin{array}{r} 54 \\ + 39 \\ \hline \end{array}$$

$$\begin{array}{r} 26 \\ + 16 \\ \hline \end{array}$$

$$\begin{array}{r} 44 \\ + 28 \\ \hline \end{array}$$

$$\begin{array}{r} 56 \\ + 25 \\ \hline \end{array}$$

$$\begin{array}{r} 39 \\ + 33 \\ \hline \end{array}$$

$$\begin{array}{r} 28 \\ + 39 \\ \hline \end{array}$$

$$\begin{array}{r} 27 \\ + 27 \\ \hline \end{array}$$

2. 计算。

$34+28=$

$27+56=$

$35+49=$

$73+19=$

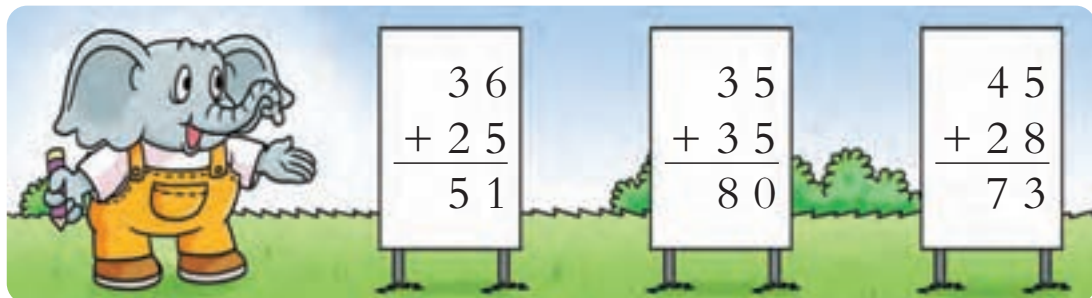
$23+57=$

$39+38=$

$29+29=$

$17+55=$

3. 把计算错误的题改正过来。



4. 填空。

$$\begin{array}{r} 23 \\ + 49 \\ \hline \end{array}$$

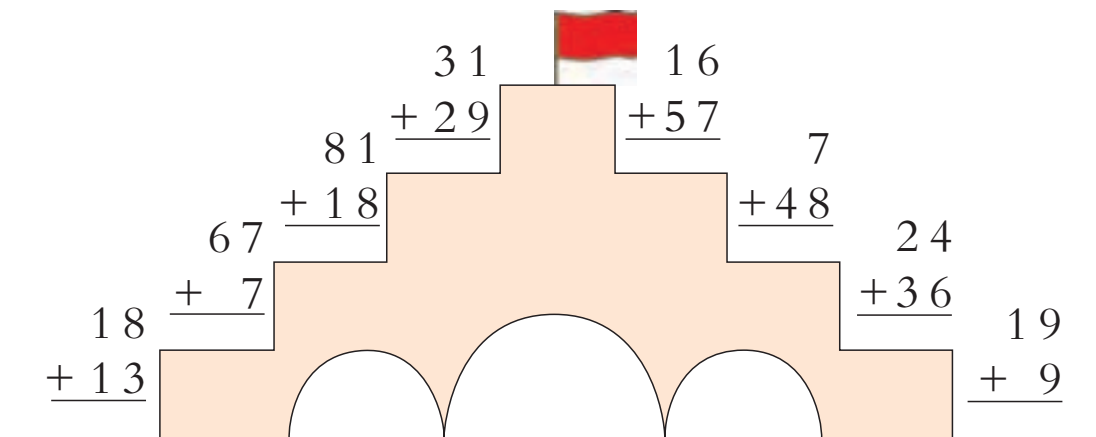
$$\begin{array}{r} 36 \\ + 28 \\ \hline \end{array}$$

$$\begin{array}{r} 54 \\ + 27 \\ \hline \end{array}$$

$$\begin{array}{r} 15 \\ + 26 \\ \hline \end{array}$$

$$\begin{array}{r} 37 \\ + 37 \\ \hline \end{array}$$

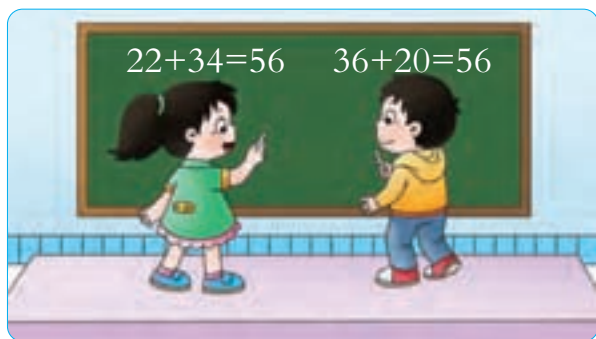
5. 夺红旗。



6. 写一写。



再写出2个和是56的加法算式。



7. 到2011年底,重庆境内长江和嘉陵江上已建成的大桥一共有多少座?



长江上已建成的大桥有26座。

嘉陵江上已建成的大桥有25座。



$$\square \bigcirc \square = \square \text{ (座)}$$



8. 两本影集一共有多少张照片?



$$\square \bigcirc \square = \square \text{ (张)}$$

9. 计算。

$11+20+23=$

$27+30+13=$

$14+15+8=$

10. 算出每个小朋友一共得了多少朵小红花。

	第1周 (朵)	第2周 (朵)	第3周 (朵)	一共 (朵)
	15	15	18	
	16	15	20	
	12	14	18	

11. 买玩具。

19元	16元
24元	18元

有40元钱,可以买哪两件玩具?



你还能提出并解决哪些数学问题?



小林在计算58加一位数时,把这个一位数加到58的十位上去了,结果得98。你认为正确的结果应是多少?




退位减法

1 还剩多少个乒乓球?



$$34 - 6 = \square \text{ (个)}$$

议一议 计算时,你遇到了什么新问题?



$$\begin{aligned} 14 - 6 &= 8 \\ 8 + 20 &= 28 \end{aligned}$$

$$\begin{array}{r} \overset{\cdot}{3} 4 \\ - 6 \\ \hline 28 \end{array}$$

用竖式算。



个位上的数不够减,从十位退1作10再减。

试一试 $44 - 7 = \square$

$50 - 8 = \square$



2 小英比爸爸小多少岁？



$$35 - 7 = \square \text{ (岁)}$$

$$\begin{array}{r} 35 \\ - 7 \\ \hline 28 \end{array}$$

你还能提出并解决哪些数学问题？

课 堂 活 动

摆一摆，再填得数。

	$30 - 7 = \square$
	先算 $\square - \square = \square$ 再算 $\square + \square = \square$

	$45 - 8 = \square$
	先算 $\square - \square = \square$ 再算 $\square + \square = \square$

练习十五

1. 算一算,说一说上下两个算式的计算有什么不同。

$63-2=$ $75-4=$ $57-6=$ $48-6=$


$63-5=$ $75-6=$ $57-8=$ $48-9=$

2. 计算。


$53-6=$ $41-4=$ $72-7=$ $35-8=$

$22-5=$ $81-3=$ $70-2=$ $64-9=$

3. 想一想错在哪里,并改正。



4. 乘车。(连线)



5. 在得数比50小的 里画“√”。

$54-9$

$42+8$

$74-40$

$59-4$

$42+6$

$36+30$



6. 算一算。



	24 条
	10 条
	6 条

(1)  和  一共有多少条?

$$\square \bigcirc \square = \square \text{ (条)}$$

(2)  比  多多少条?

$$\square \bigcirc \square = \square \text{ (条)}$$

7. 清水湖游船出租情况如下,请算出各种船还剩多少只。

	2 人座	3 人座	4 人座	6 人座	10 人座
原有 (只)	23	31	33	27	21
租出 (只)	5	8	4	9	6
还剩 (只)					

8. 大客车上的乘客比小轿车上的多多少人?



有乘客 32 人



有乘客 3 人



有乘客 7 人

$$\square \bigcirc \square = \square \text{ (人)}$$


你还能提出并解决哪些数学问题?



3 右边的高楼比左边的多多少层?



$$32 - 19 = \square \text{ (层)}$$



$$\begin{aligned} 12 - 9 &= 3 \\ 20 - 10 &= 10 \\ 10 + 3 &= 13 \end{aligned}$$



$$\begin{array}{r} \overset{\cdot}{3} 2 \\ - 1 9 \\ \hline 1 3 \end{array}$$

可以用竖式算。

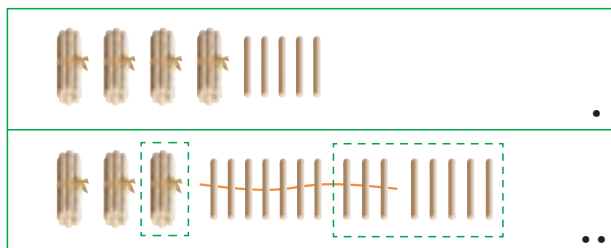


用竖式计算退位减法要注意什么?



课 堂 活 动

1. 看图计算, 说说怎样计算。



$$45 - 18 = \square$$

$$\begin{array}{r} 4 5 \\ - 1 8 \\ \hline \end{array}$$



2. 说一说差的十位上的数是几。

$72 - 29 = \square 3$

$35 - 17 = \square 8$

$34 - 19 = \square 5$

$65 - 27 = \square 8$

$53 - 16 = \square 7$

$44 - 25 = \square 9$

4 还剩多少元？



$50 - 30 - 14 = \square (\text{元})$



$$\begin{aligned} 50 - 30 &= 20 \\ 20 - 14 &= 6 \end{aligned}$$

$$\begin{array}{r} 50 \\ - 30 \\ \hline 20 \end{array}$$

$$\begin{array}{r} 20 \\ - 14 \\ \hline 6 \end{array}$$

可以用竖式算。



试一试

$73 - 42 - 20 =$

$63 - 8 - 15 =$

课 堂 活 动

1. 摆  , 先拿走  , 再拿走  。

$\square - \square - \square = \square$

2. 先计算,再说一说怎样算。

$50 - 8 - 30 =$

$44 - 14 - 7 =$



练习十六

1. 计算。

$$\begin{array}{r} 33 \\ - 26 \\ \hline \end{array}$$

$$\begin{array}{r} 70 \\ - 54 \\ \hline \end{array}$$

$$\begin{array}{r} 53 \\ - 49 \\ \hline \end{array}$$

$$\begin{array}{r} 84 \\ - 27 \\ \hline \end{array}$$

$$\begin{array}{r} 50 \\ - 38 \\ \hline \end{array}$$

$$\begin{array}{r} 66 \\ - 37 \\ \hline \end{array}$$

$$\begin{array}{r} 81 \\ - 35 \\ \hline \end{array}$$

$$\begin{array}{r} 91 \\ - 16 \\ \hline \end{array}$$

2. 计算。

$46 - 17 =$

$73 - 39 =$

$64 - 28 =$

$91 - 54 =$

$82 - 46 =$

$55 - 36 =$

$78 - 59 =$

$63 - 25 =$

3. 找朋友。(连线)



$82 - 28$



$61 - 37$



$70 - 23$



$53 - 18$



$32 - 17$



24



54



35



15



47

4. 还剩多少元?



47元

我用50元买这个电热水壶。



$$\square \bigcirc \square = \square \text{ (元)}$$



5. 丰收的果园。

柠檬(méng)	橘(jú)子	柚子
92筐	78筐	69筐

(1) 运走了56筐柠檬, 还剩多少筐柠檬?

$$\square \bigcirc \square = \square \text{ (筐)}$$

(2) 柚子比橘子少多少筐?

$$\square \bigcirc \square = \square \text{ (筐)}$$



6. 合唱队比美术组多多少人?



$$\square \bigcirc \square = \square \text{ (人)}$$

7. 计算。

$$92 - 40 - 9 =$$

$$45 - 23 - 8 =$$

$$68 - 38 - 22 =$$

8. 算一算。

	青青	田田	文文
原有(元)	54	40	46
买学习用品用去(元)	31	12	26
买体育用品用去(元)	8	18	12
还剩(元)			



$$99 - 81 = 18$$

$$99 - 72 = 27$$

$$99 - 63 = 36$$

这样的算式你还能写出哪些?



整理与复习

1. 议一议。



2. 学校合唱队中有女生28人，男生33人。



(1) 合唱队一共有学生多少人？

$$28 + 33 = \square \text{ (人)}$$

$$\begin{array}{r} 28 \\ + 33 \\ \hline \end{array}$$

计算进位加法时要注意什么？



(2) 女生比男生少多少人？

$$33 - 28 = \square \text{ (人)}$$

$$\begin{array}{r} 33 \\ - 28 \\ \hline \end{array}$$

计算退位减法时要注意什么？



练 习 十 七

1. 计算。

$43+30=$

$76+18=$

$37+25=$

$52+29=$

$68-27=$

$23-5=$

$41-8=$

$82-26=$

$33+20+15=$

$84-14-50=$

$21+8+41=$

$76-24-12=$

2. 小鹿送信。(连线)

$35+37$

$37+25$

$90-62$

$18+10$



$87-15$

$43-15$

$91-50$

$21+20$

3. 在 ○ 里填“>”“<”或“=”。

$27+43 \bigcirc 69$

$73 \bigcirc 92-18$

$35+47 \bigcirc 85$

$21+27 \bigcirc 78-28$

$63+36 \bigcirc 91-5$

$80-19 \bigcirc 35+26$



4. 计算。

$$\begin{array}{r} 26 \\ +17 \\ \hline \end{array}$$

$$\begin{array}{r} 74 \\ -29 \\ \hline \end{array}$$

$$\begin{array}{r} 53 \\ +19 \\ \hline \end{array}$$

$$\begin{array}{r} 27 \\ -14 \\ \hline \end{array}$$

$$\begin{array}{r} 93 \\ -26 \\ \hline \end{array}$$

$$\begin{array}{r} 28 \\ +38 \\ \hline \end{array}$$

$$\begin{array}{r} 71 \\ -35 \\ \hline \end{array}$$

$$\begin{array}{r} 44 \\ +18 \\ \hline \end{array}$$

5. 买这件衣服用了多少元?



$$\square \bigcirc \square = \square (\text{元})$$

6. 贵州省的民族个数比云南省少多少个?



$$\square \bigcirc \square = \square (\text{个})$$

7. 小明看一本书,第一天看了35页,第二天看了46页,一共看了多少页?

$$\square \bigcirc \square = \square (\text{页})$$



8. 买书。



36元



44元






(1) 王伟用50元买《动漫乐园》，还剩多少元？

$$\square \bigcirc \square = \square \text{ (元)}$$

(2) 丁强用50元买《动物世界》，还剩多少元？

$$\square \bigcirc \square = \square \text{ (元)}$$

9. 小朋友跳绳，每人两轮一共跳了多少下？

					
第1轮(下)	28	26	29	33	28
第2轮(下)	27	35	37	29	25
一共(下)					

10. 还剩多少袋牛奶？



$$\square \bigcirc \square \bigcirc \square = \square \text{ (袋)}$$

